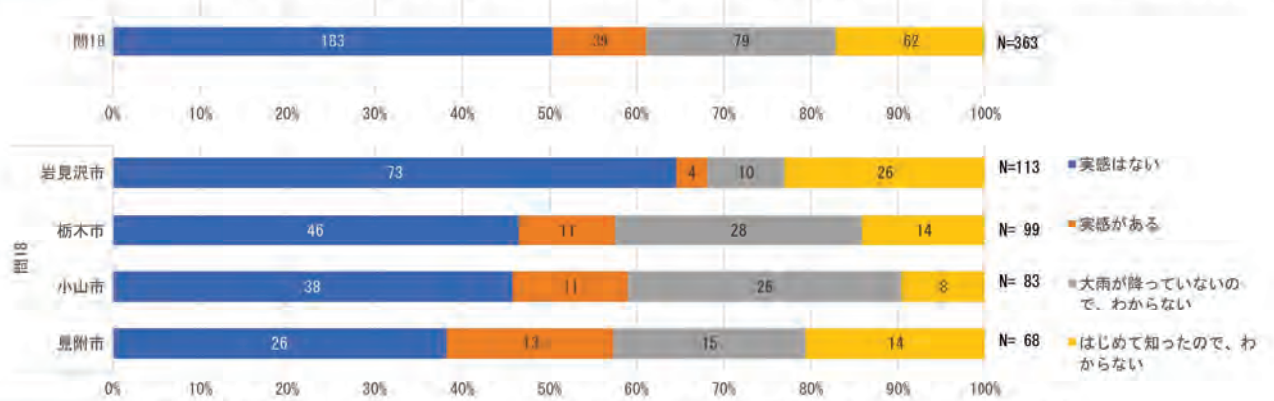


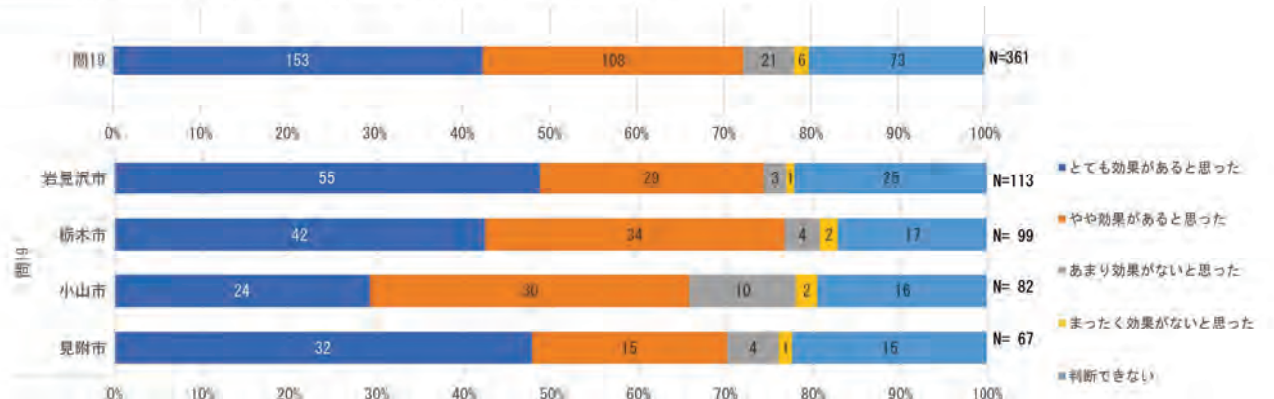
都市市民向けアンケート 集計結果

質問番号 質問内容

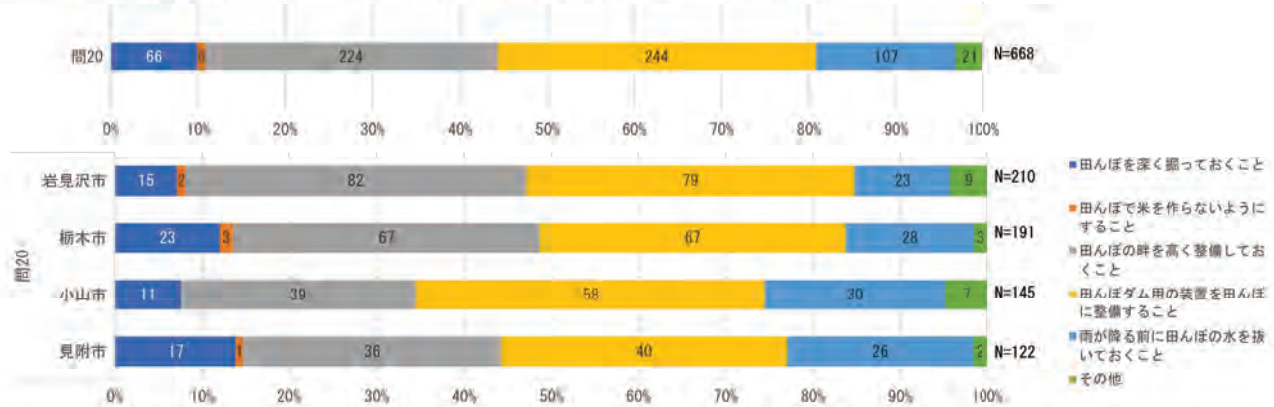
問18 田んぼダムの取り組みによって、あなたがお住まいのエリアが、以前よりも浸水被害を受けにくくなっているという実感はありますか？



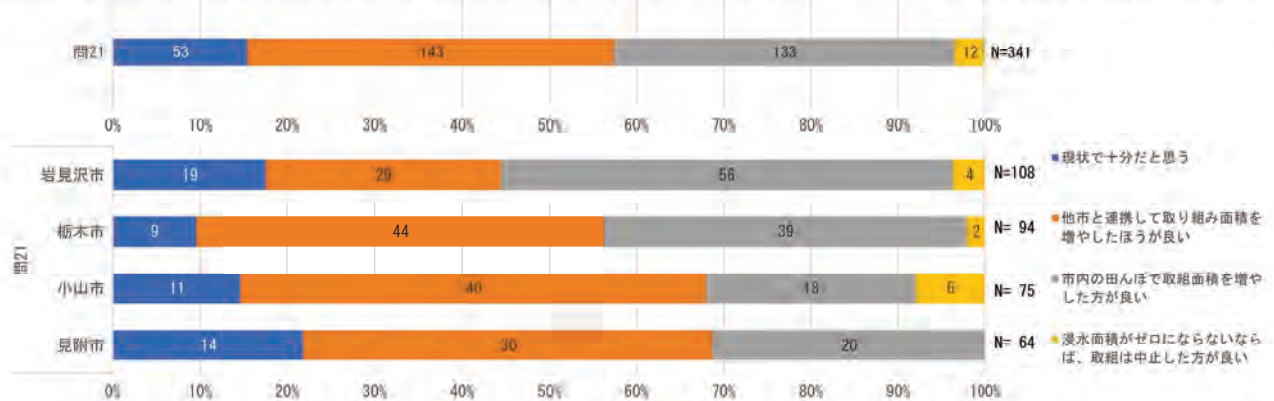
問19 水田流出簡易計算プログラム・シミュレーションによると水田一枚からの流出量が減少する結果が得られています。この効果について、あなたの考えに近いものを1つ選び○で囲んでください。



問20 田んぼダムの効果を発揮させるために必要だと思う対策を2つ選び○で囲んでください。



問21 田んぼダムの効果を発現させるために、流域における今後の取り組みについて、あなたの考えに近いものを1つ選び○で囲んでください。

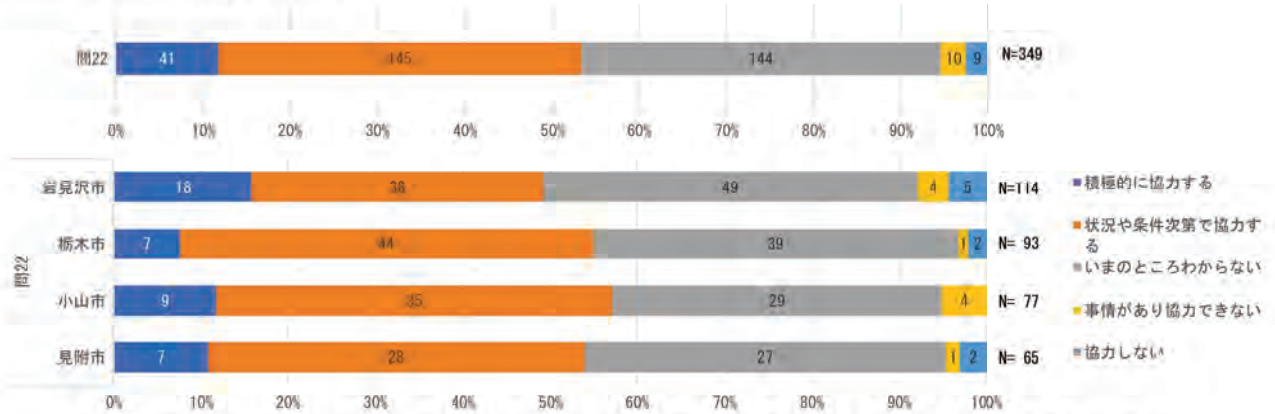


都市市民向けアンケート 集計結果

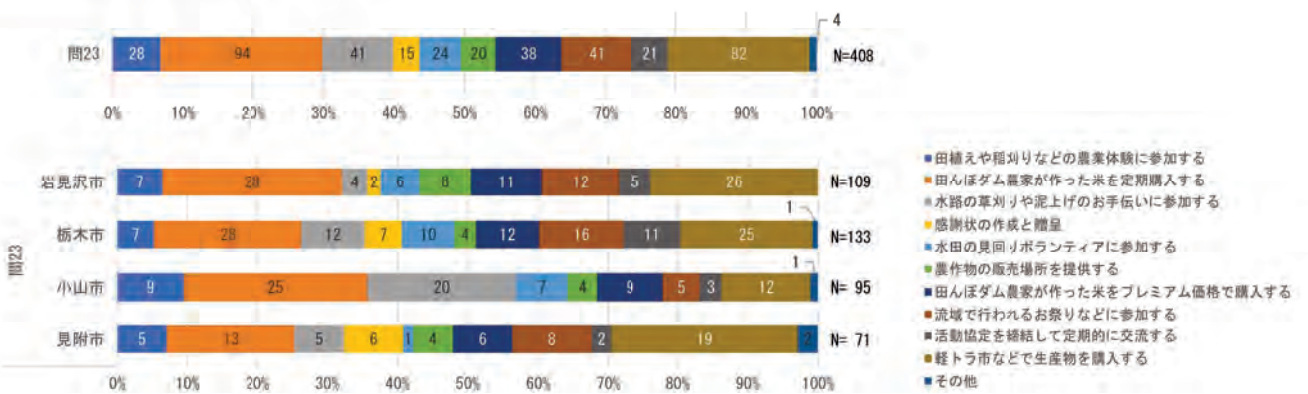
質問番号 質問内容

C 上流域で田んぼダムに取り組む農家さんに対する考えについてお尋ねします。

問22 田んぼダムに取り組む農家さんから、農業のお手伝いや農産物購入について協力をお願いがあった場合、あなたの考えに近いものを1つ選び○で囲んでください。



問23 積極的に協力する、状況や条件次第で協力すると回答した方にお尋ねします。あなたが協力してもよいと思うメニューを全て選び○で囲んでください。1

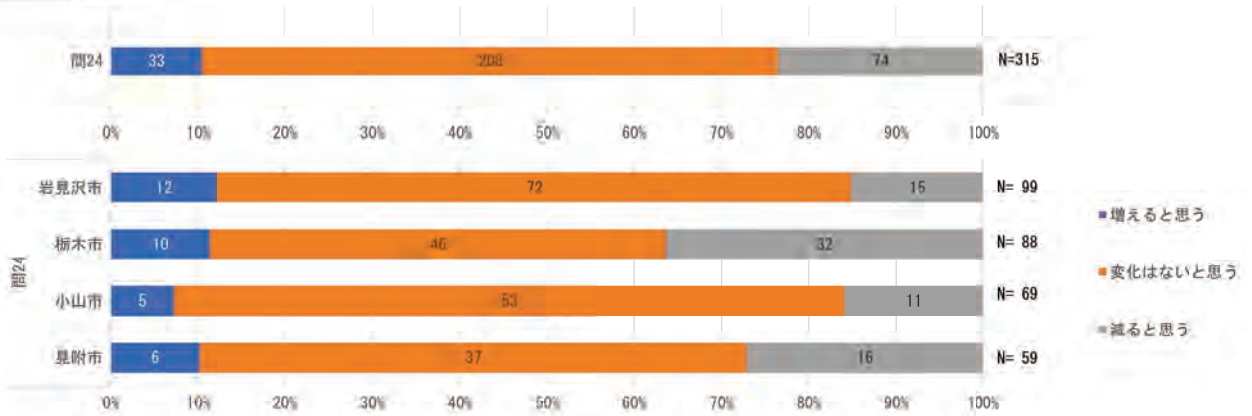


都市市民向けアンケート 集計結果

質問番号 質問内容

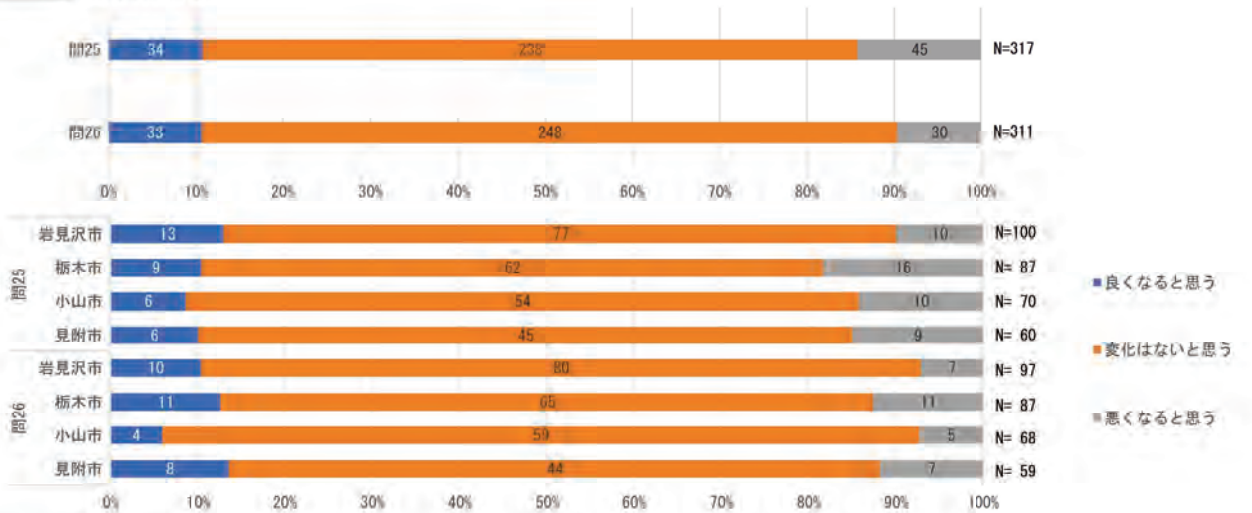
D 田んぼダムの取り組みに対するイメージについてお尋ねします。田んぼダムの取り組み前後で比べると、取り組んだ後のほうが...

問24 米の収量は



問25 米の品質は

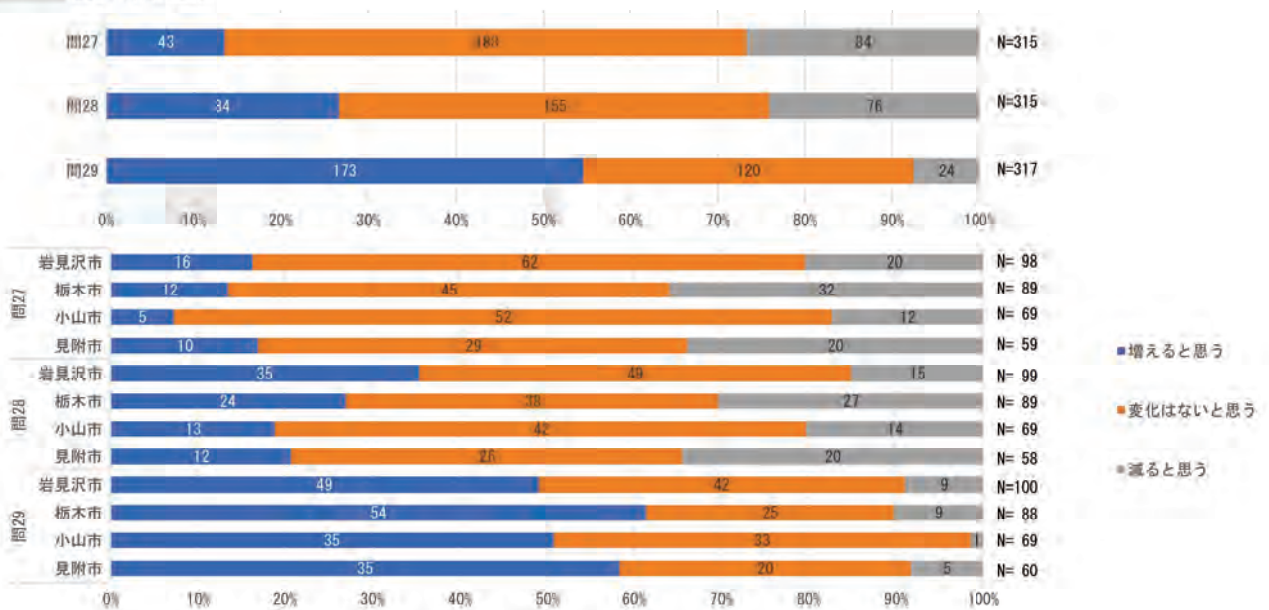
問26 米の売れ行きは



問27 農家の収入は

問28 農家にメリットは

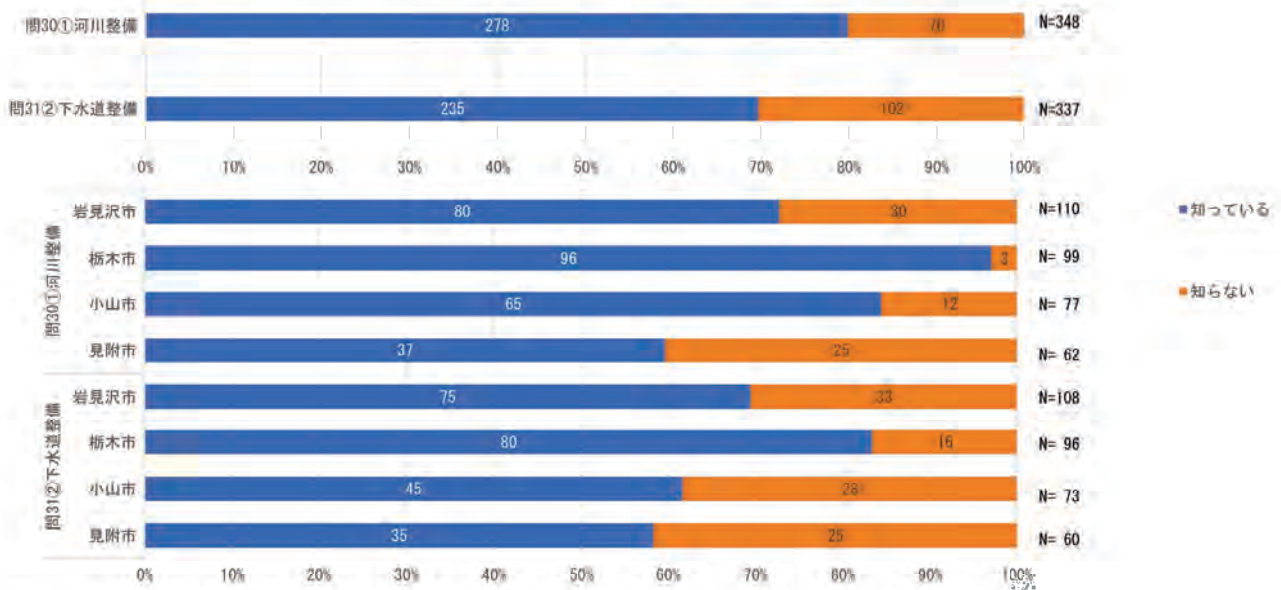
問29 農家の作業量は



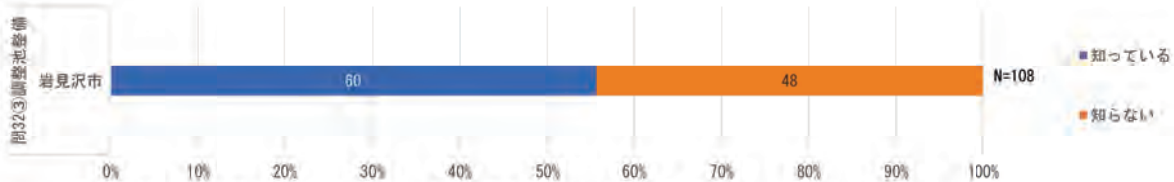
都市市民向けアンケート 集計結果

質問番号 質問内容

E
 下の表は小山市内で進められている治水・雨水対策の一部です。
 それぞれの対策内容について、あなたの知っているものを回答欄から1つ選び○で囲んでください。
 問30 河川の整備・改修計画を定め、工事していることを（岩見沢・小山・栃木・見附）
 問31 下水道の整備・改修計画を定め、工事していることを（岩見沢・小山・栃木・見附）



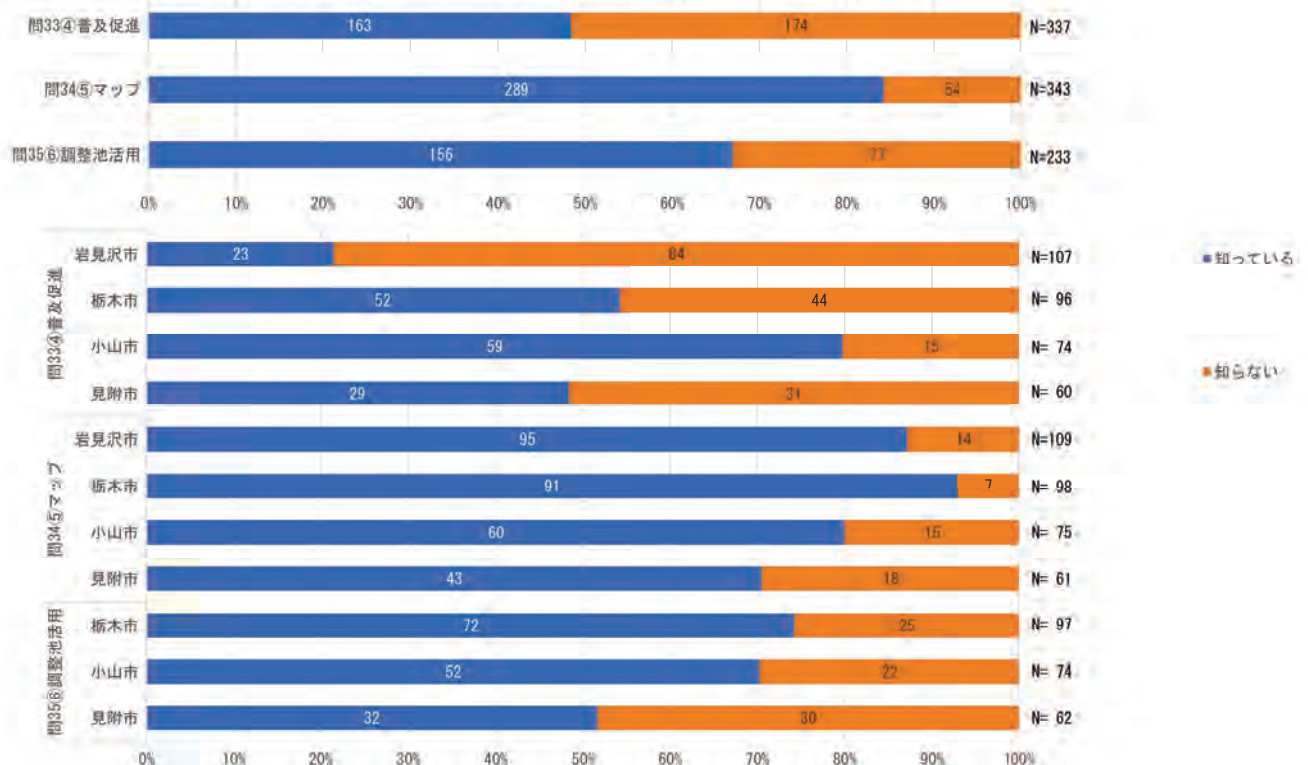
問32 河川の水の量を調整する調整池を整備中であることを（岩見沢）



問33 田んぼダムの普及促進を図っていることを（岩見沢・栃木・小山・見附）

問34 市の公式ホームページでハザードマップを公開していることを（岩見沢・栃木・小山・見附）

問35 河川の水の量を調整する調整池を活用していることを（栃木問32・小山問32・見附問33）



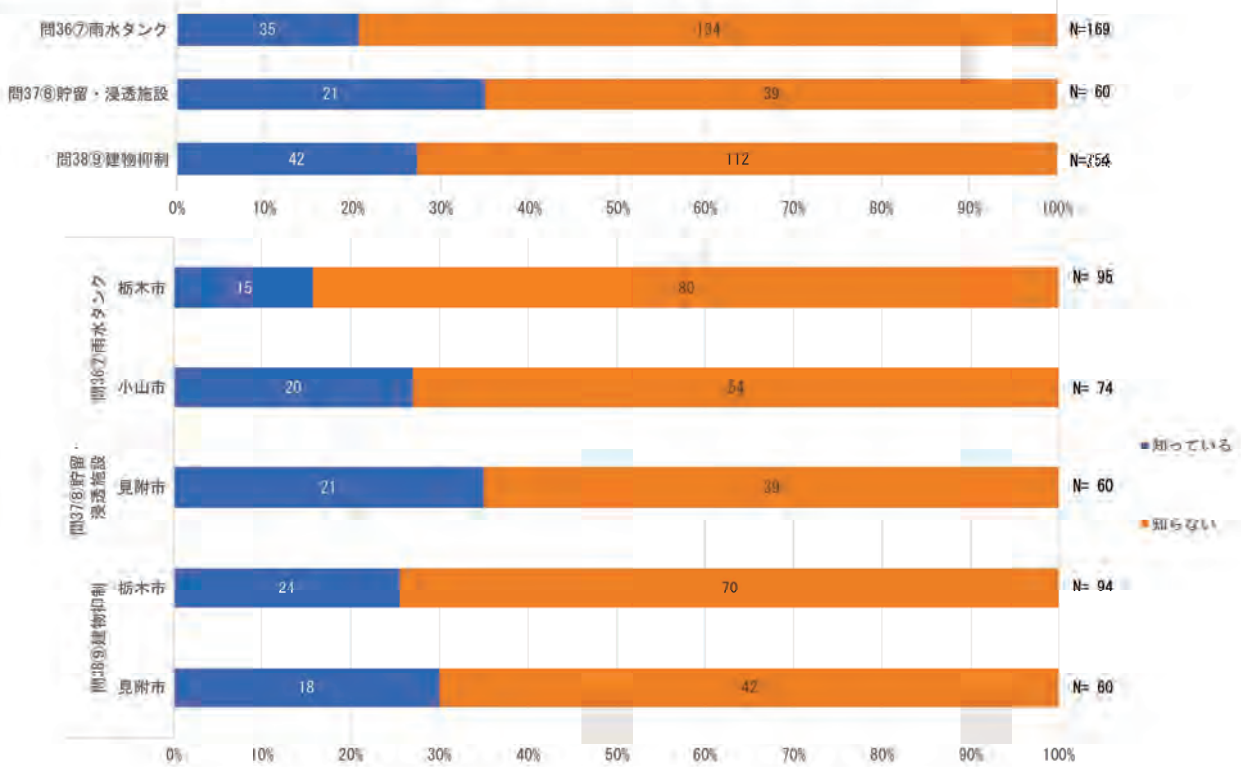
都市市民向けアンケート 集計結果

質問番号 質問内容

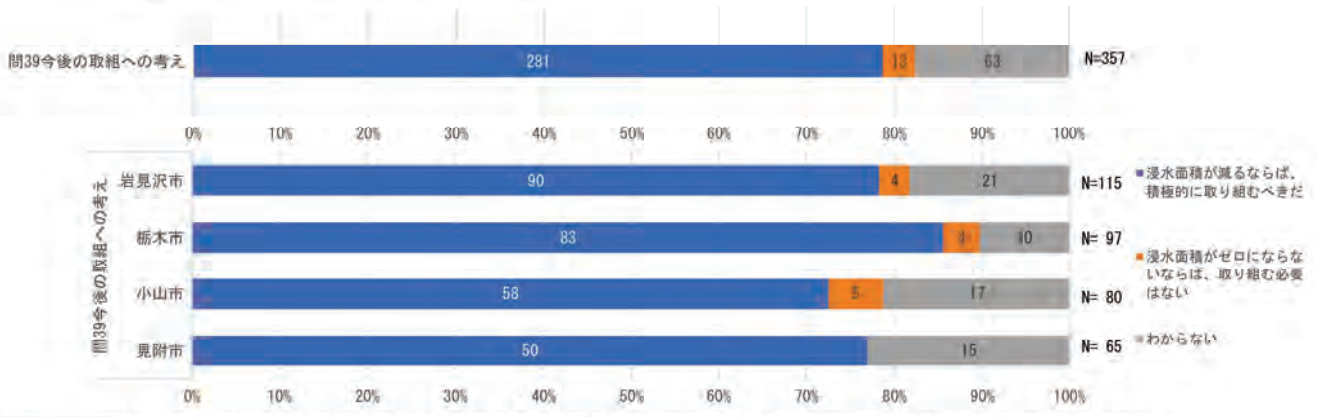
問36 住宅等への雨水貯留タンクや浸透ます等の設置費を補助していることを（栃木問34・小山問34）

問37 公共施設における貯留・浸透施設を整備していることを（見附問32）

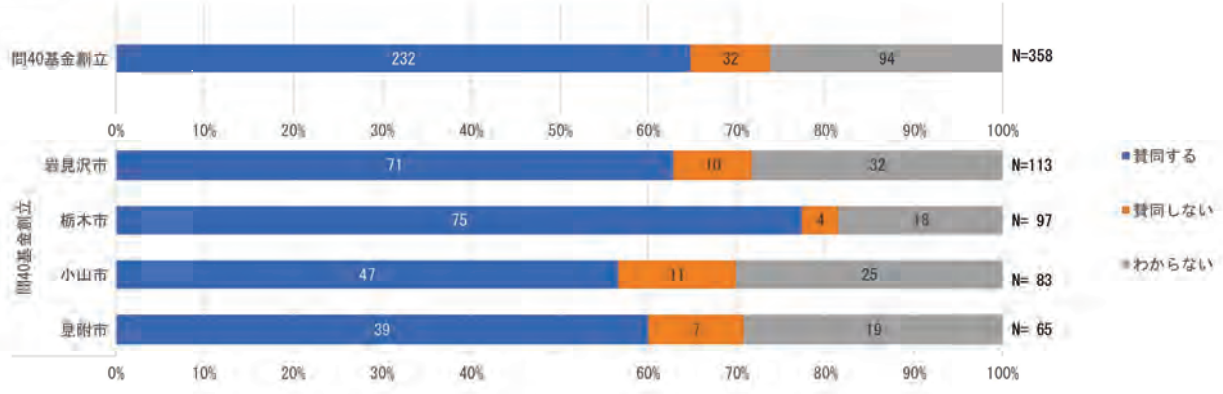
問38 水害ハザードエリアにおける建物などの開発を抑制していることを（栃木問35・見附問36）



F 今後の田んぼダムを取り組むことについてお尋ねします。
問39 今後の田んぼダムを取り組むことに対して、あなたの考えに近いものを1つ選び○で囲んでください。
（岩見沢問35・栃木問37・小山問36・見附問37）



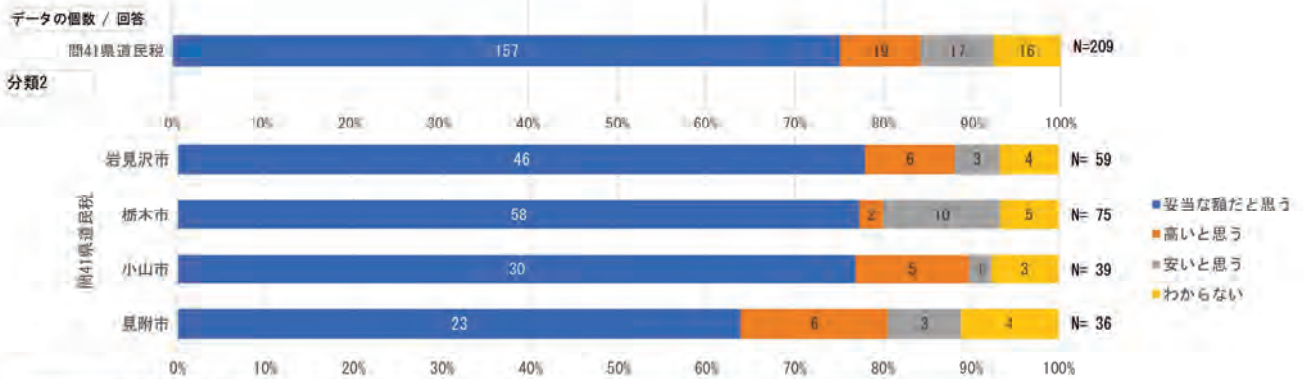
問40 もし（道・県）で田んぼダム事業を推進するための基金を創設することになった場合、あなたの考えに近いものを1つ選び○で囲んでください。（岩見沢問36・栃木問38・小山問37・見附問38）



都市市民向けアンケート 集計結果

質問番号 質問内容

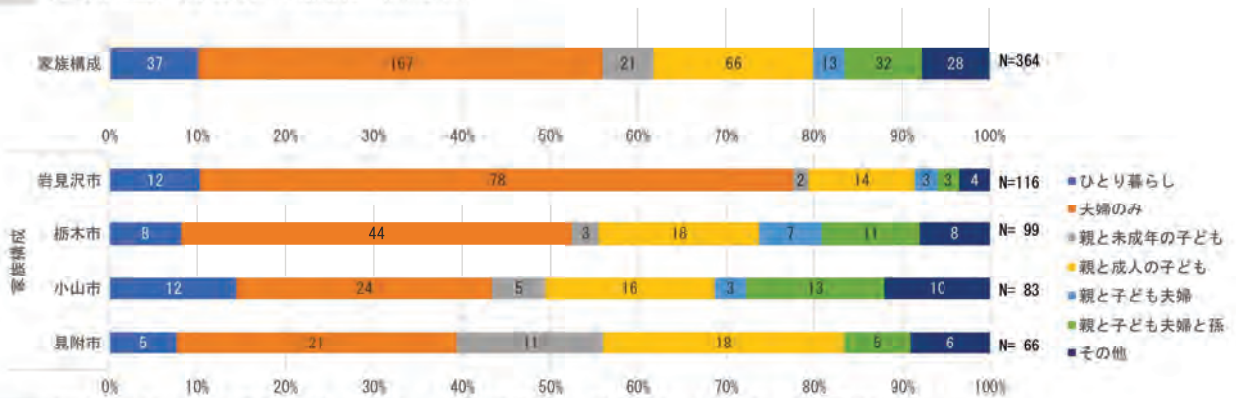
問41 田んぼダム事業の推進基金として、一人あたり年間500円を県・道民税として、もし賦課することになった場合、あなたの考えに近いものを1つ選び○で囲んでください。(岩見沢問37・栃木問39・小山問38・見附問39)



G 最後の設問です。

問42 あなたが現在お住まいのエリアの郵便番号をご記入ください。(岩見沢問38・栃木問40・小山問39・見附問40)

問43 あなたの家族構成として、もっとも近いものを1つ選び○で囲んでください。(岩見沢問39・栃木問41・小山問40・見附問41)



問44 ご記入いただいた方の属性を教えてください。(岩見沢問40・栃木問42・小山問41・見附問42)

